





Cele 10 tarte din imagine alcătuiesc un triunghi cu vârful în jos.  
E suficient să muți trei tarte pentru a forma un alt triunghi,  
de data asta unul cu vârful orientat în sus. Care sunt cele trei tarte?






Unește fiecare casă cu umbra potrivită, apoi colorează desenele.





Completează careurile de mai jos astfel încât fiecare figură să apară o singură dată pe fiecare rând, coloană și în fiecare pătrat mic.

Poți alege între:



Four 4x4 grids are arranged in a 2x2 pattern. Each grid contains some shapes and has empty cells for completion. The shapes are yellow squares, grey stars, yellow triangles, and yellow circles. The grids are surrounded by a decorative border of stars and planets.

○	■		△
	△		○
■			
	★	○	■

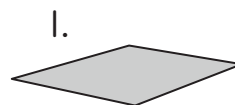
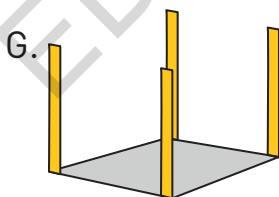
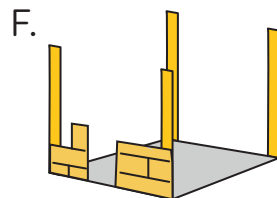

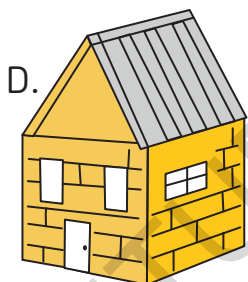
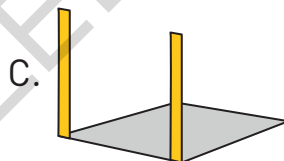
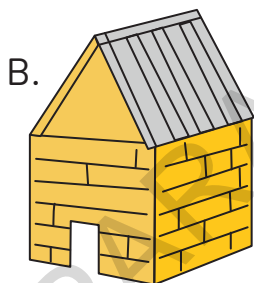
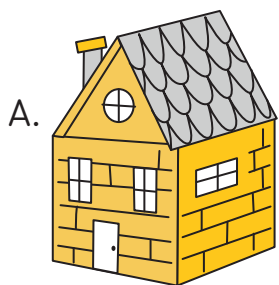
★			○
	■		△
			★
△		○	

■			○
	★		△
★	○		■
△		○	

	★		○
	△		★
△		★	
	■	○	△


Așază fiecare literă la locul potrivit, pentru a construi casa.

1.	2.	3.	4.	5.	6.	7.	8.	9.



Dacă iepurașul mănâncă în fiecare zi câte 2 morcovi, după câte zile va termina de mâncat toți morcovii?

Iepurașul va termina de mâncat toți morcovii după ..... zile.



## Aniversarea Luizei

Scrie pe spațiile punctate rezultatele problemelor de mai jos.

1

Mama prepară fursecuri pentru aniversarea Luizei. Într-o tavă de copt încap 54 de fursecuri. Câte rânduri a câte 6 fursecuri va putea așeza mama Luizei în tava de copt?

-----

2

Luiza a făcut cu 28 de fursecuri mai mult decât mama ei. Câte fursecuri a făcut fetița în total?

-----

3

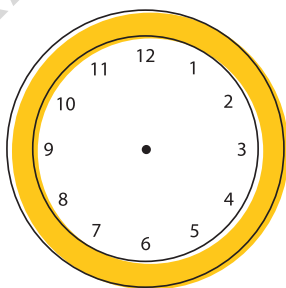
Luiza a avut 6 invitați. Fiecare invitat i-a adus câte două cadouri. Câte cadouri a primit Luiza?

-----

4

Petrecerea a durat 3 ore. A început la ora 14.30. La ce oră s-a terminat? Desenează acele pe cadranul ceasului de mai jos.

-----



5


Luiza a pregătit cutiuțe cu bomboane. Are 26 de bomboane de ciocolată pentru prietenii ei. Câte bomboane va primi fiecare dintre cei 6 invitați ai ei? Câte bomboane îi mai rămân fetei?

-----

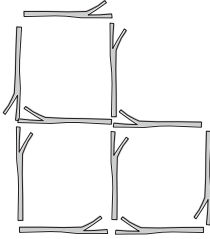
-----



Printre ciuperci s-a ascuns un animăluț! Încercuiește-l.



**P. 38**



**P. 39**

cercuri = 21, pătrate = 8, triunghiuri = 10,  
dreptunghiuri = 8

**P. 40**

84 → 76 → 68 → 60 → 52 → 44 → 36 → 28 → 20 → 12

9 → 17 → 25 → 33 → 41 → 49 → 57 → 65 → 73 → 81

97 → 91 → 85 → 79 → 73 → 67 → 61 → 55 → 49 → 43

51 → 55 → 59 → 63 → 67 → 71 → 75 → 79 → 83 → 87

16 → 25 → 34 → 43 → 52 → 61 → 70 → 79 → 88 → 97

**P. 41**

1. cerb, 2. câmp, 3. turn, 4. mașină, 5. bursuc,  
6. toamnă, 7. balerină

**P. 42**

Pentru a echilibra cântarul e nevoie de 5 greutateți  
de 10 kg, 1 greutate de 5 kg și 2 greutateți de 1 kg.

**P. 44**

